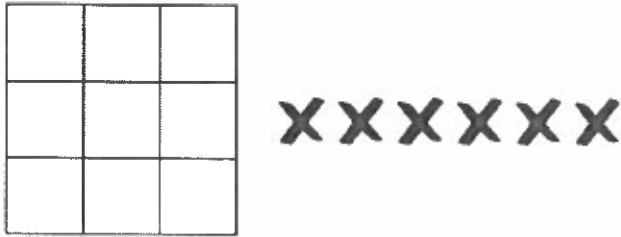


# Raisonnement Logique Leçon 7


1. Pour résoudre un casse-tête de logique, on doit placer un X dans six des carrés de la grille ci-dessous de sorte qu'il n'y ait pas trois X sur une ligne verticale, horizontale ou diagonale.



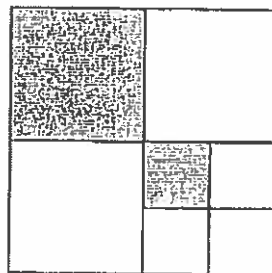
Laquelle des images ci-dessous illustre l'emplacement des trois premiers X qui mènerait à une solution juste de ce casse-tête de logique?

A. B. C. D.

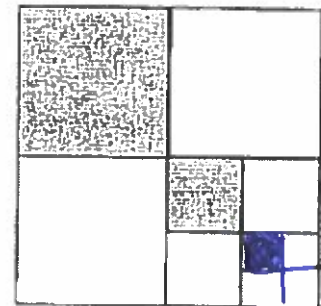
2. Deux générations d'un motif fractal (dessin divisé dans des sections) sont illustrées dans le diagramme ci-dessous.



1<sup>re</sup> génération



2<sup>e</sup> génération



3<sup>e</sup> génération

Trouve le dessin qui représente la 3<sup>e</sup> génération