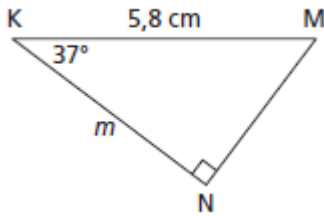


Mathématique Appliquée et Pré-Calcul 20S  
Unité : Trigonométrie : Mini Quiz Leçon 5

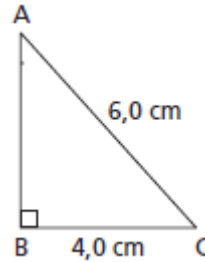
Nom : \_\_\_\_\_ /19 Date : \_\_\_\_\_

/15 1. Résous chaque triangle rectangle. Indique les mesures au dixième près.

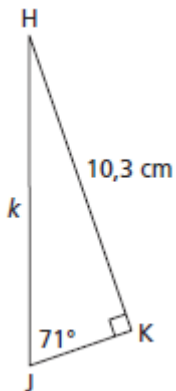
a)



b)



c)



/4 2. Une route s'élève de 1m tous les 15 m mesurés sur la route.

a) Quel est l'angle d'inclinaison de la route, au degré près ? (2)

b) Quelle distance horizontale parcourt une voiture si elle se déplace de 15 m sur la route ? Indique ta réponse au dixième de mètre près. (2)